

PRUEBAS DE ACCESO A LA UNIVERSIDAD PARA EL ALUMNADO DE BACHILLERATO
217 GEOGRAFÍA. SEPTIEMBRE 2019

Se ofrecen dos opciones A y B, sin posibilidad de intercambiar preguntas de una a otra. Elegida una opción se desarrollarán sus preguntas, sin importar el orden seguido (véase la sugerencia sobre las preguntas cortas). En la valoración se tendrá en cuenta la capacidad de razonamiento, el buen uso del lenguaje y la expresión adecuada.

OPCIÓN A:

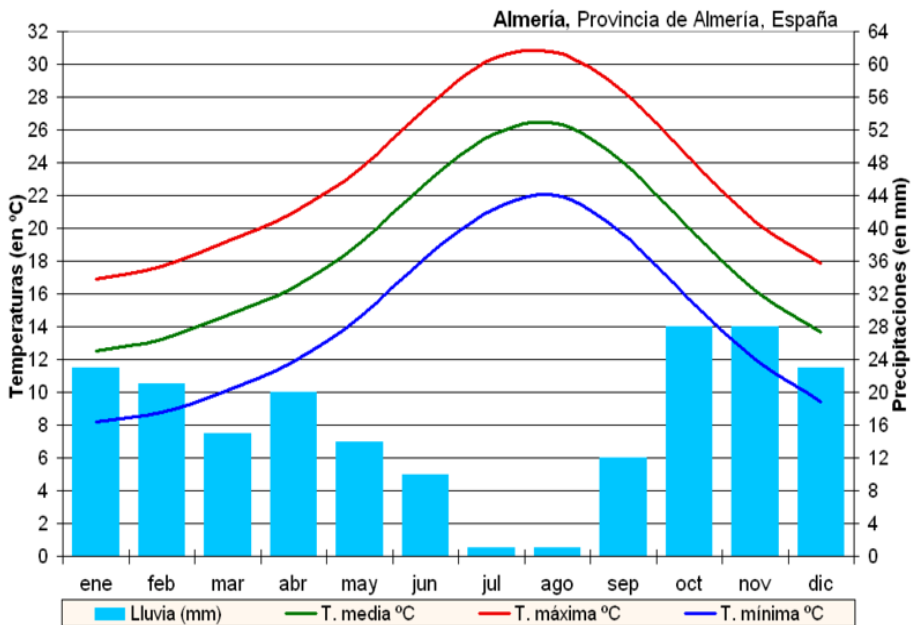
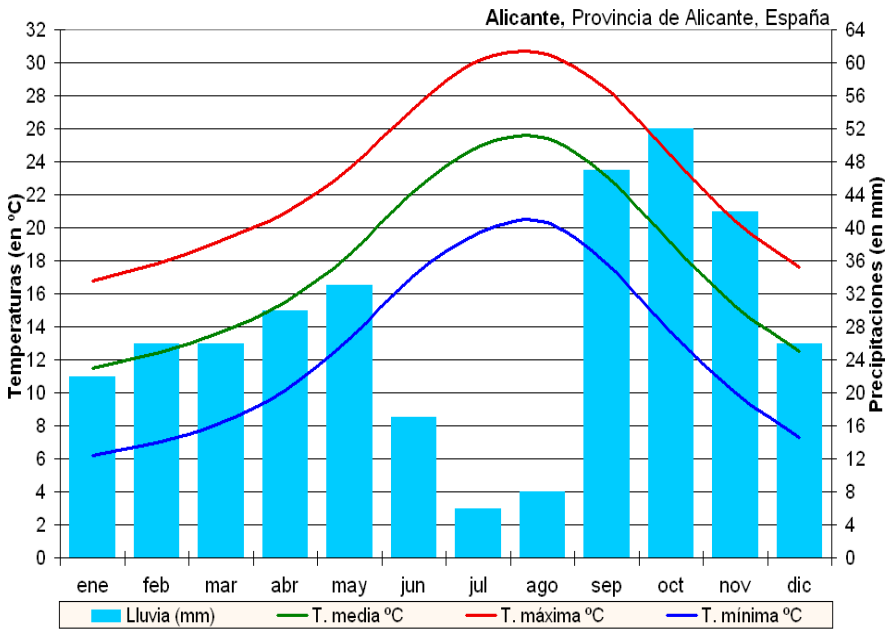
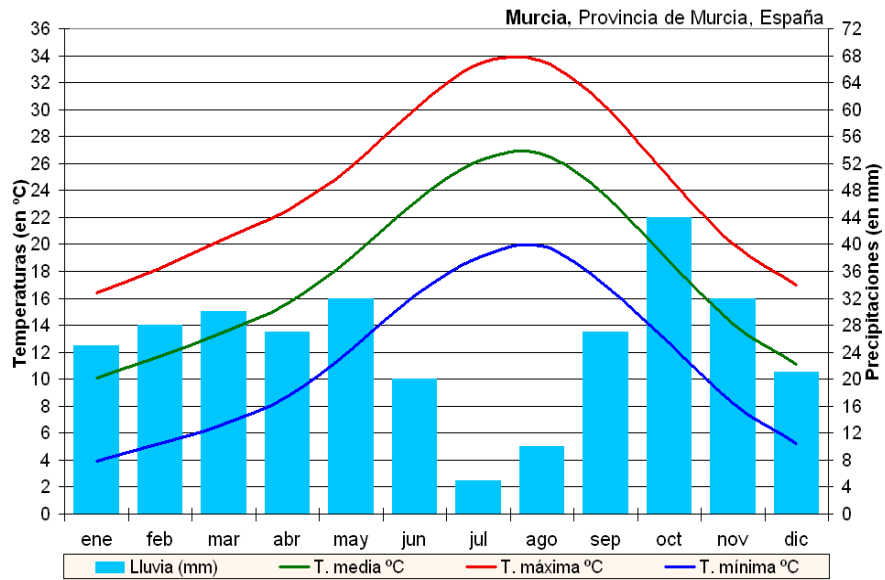
- 1- Explica las características del clima al que corresponden los climogramas que se acompañan, tratando de relacionarlas con los factores geográficos que lo originan.
(Puntuación total: **3 puntos**)
- 2- Evolución de la natalidad en España desde la segunda mitad del siglo XX relacionándola con los factores que explican ese comportamiento.
(Puntuación total: **3 puntos**)

Las preguntas siguientes tienen una valoración máxima de 0,5 puntos cada una.

Las respuestas deben consignarse EN EL CUADERNILLO DE RESPUESTAS, identificadas con su número. Se sugiere contestarlas todas seguidas, aunque no necesariamente al principio:

- 3- La depresión del terreno en la montaña, de forma de cubeta o anfiteatro, con paredes rocosas elevadas erosionadas por la acción del hielo glacial, y que cuando desaparece el hielo puede ocuparla un lago es
- 4- El relieve o modelado que se origina por la disolución de las calizas se denomina
- 5- El conjunto de actividades técnicas y conocimientos de crianza de especies acuáticas (animales y vegetales) con distinta finalidad se conoce como
- 6- Las industrias que se dedican a fabricar bienes destinados a ser utilizados por otras industrias para su proceso productivo, que sí produce objetos que pueden utilizar directamente los consumidores, se dicen
- 7- Al lugar en el que se localizan empresas dedicadas a la investigación y avances tecnológicos con el fin de incrementar la riqueza de la Comunidad a través de transferencia tecnológica, creación y atracción de empresas con alto valor añadido, se le conoce como.....
- 8- El área central de una ciudad donde se concentra la actividad comercial y financiera, por lo que se convierte en el lugar de mayor valor económico con un uso intensivo de ese suelo, se le ha dado en llamarlo por su nombre en inglés
- 9- Cuando en una superficie de cultivo conviven gran variedad de cultivos, se habla de
- 10-El tributo, tarifa o impuesto que se aplica a los bienes que son objeto de importación por un país se le llama

IMÁGENES, OPCIÓN A:



PRUEBAS DE ACCESO A LA UNIVERSIDAD PARA EL ALUMNADO DE BACHILLERATO
217 GEOGRAFÍA. SEPTIEMBRE 2019**OPCIÓN B:**

1- Las grandes áreas litológicas de España y cómo influyen en el relieve y modelado característico.

(Puntuación total: 3 puntos)

2- Explica los diversos dominios agrarios que se dan en España y que aparece en el mapa que se encuentra en la opción B.

(Puntuación máxima: 3 puntos)

Las preguntas siguientes tienen una valoración máxima de 0,5 puntos cada una.

Las respuestas deben consignarse EN EL CUADERNILLO DE RESPUESTAS, identificadas con su número. Se sugiere contestarlas todas seguidas, aunque no necesariamente al principio:

3- Las líneas que unen puntos con igual presión atmosférica a nivel del mar son

4- Cuando el caudal de un río desciende a mínimos de casi desaparecer por un descenso en la alimentación, se dice que está o sufre

5- Las industrias que fabrican productos que van directamente a usarse por el consumidor se clasifican como

6- El área marítima con abundante pesca por sus condiciones ambientales marinas, se la conoce como

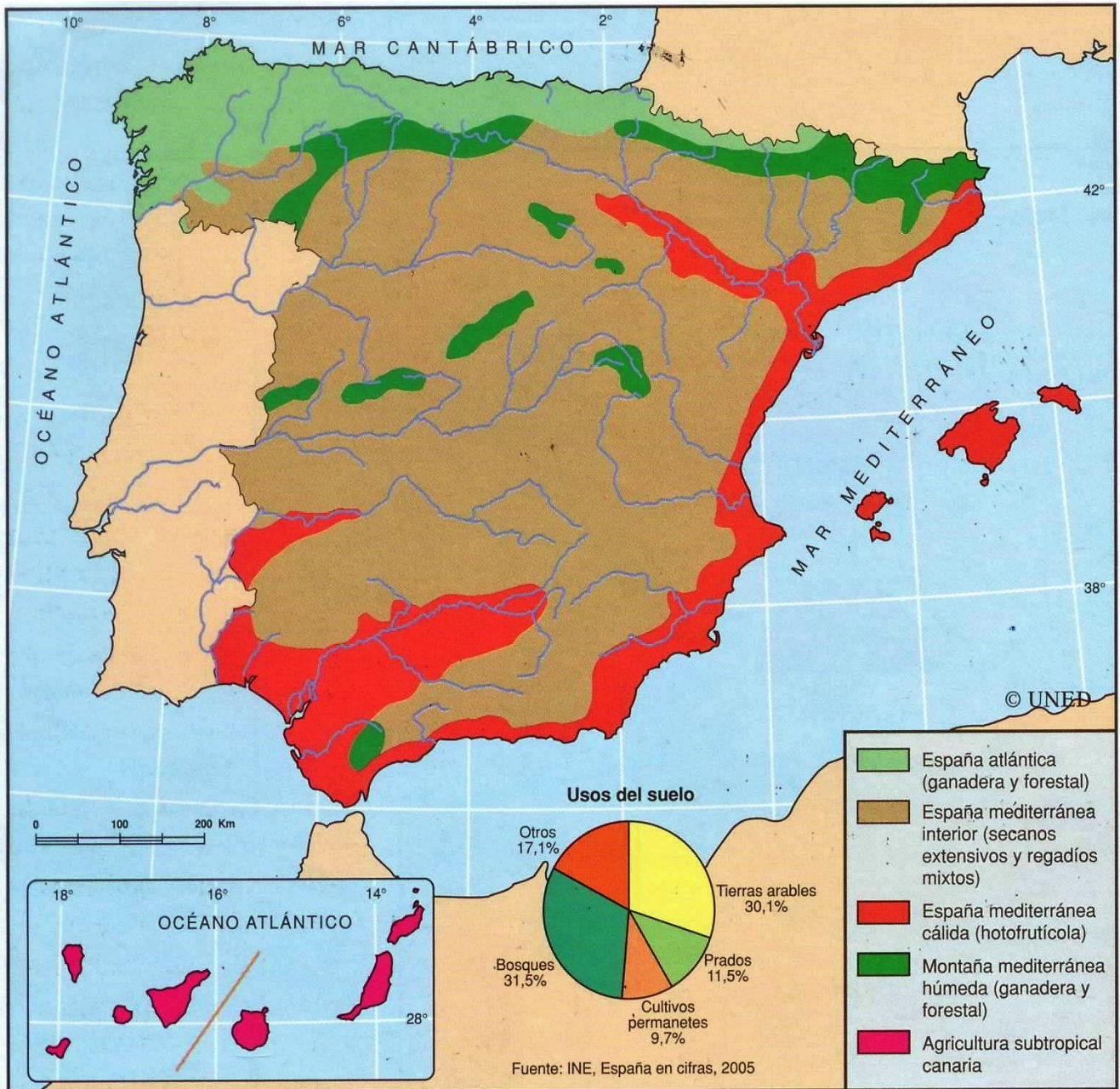
7- Cuando en un proceso productivo se divide el trabajo en múltiples acciones muy simples, que se suceden hasta obtener el producto final, es lo que se denomina

8- El número de años que se prevé que viva una persona, basado en el promedio estadístico de esa generación aplicándole las tasas de mortalidad por edad de ese momento, se conoce como

9- El número de niños muertos antes de cumplir un año respecto al total de nacidos vivos en ese año, y multiplicado por mil es

10-La gran ciudad cuya importancia y transcendencia es de orden internacional es conocida como una

IMÁGENES, OPCIÓN B:





EVALUACIÓN DE BACHILLERATO PARA EL ACCESO A LA UNIVERSIDAD 217 GEOGRAFÍA SEPTIEMBRE 2019

CRITERIOS DE VALORACIÓN

El examen ofrece dos opciones de respuesta A y B de igual estructura, que se explica a continuación.

Las dos primeras preguntas se consideran abiertas (según la tipología de la Orden ECD/1941/2016 de 22 de diciembre, que determina las características de la evaluación de Bachillerato para acceso a la Universidad) y su puntuación puede alcanzar los 3 puntos. Significan cada una el 30% de los dos grandes bloques en los que hemos asimilado los contenidos, que son el medio físico de España, (correspondería a los bloques 1 al 5 que debe de corresponder a un total del 40% de participación del examen) y al gran bloque de Geografía Humana de España (que englobaría los bloques 6 al 10 e incluso en sentido amplio podría incluir los 11 y 12, que en este caso sumarían el 60% restante del examen). Puesto que los estándares de aprendizaje evaluables (de acuerdo con la Orden Ministerial que seguimos) hacen énfasis en la utilización de aparato gráfico, una pregunta hará utilización de él. Si en la opción A es la primera pregunta la que tiene el apoyo gráfico, en la opción B será la segunda, o a la inversa.

Para alcanzar el 40% y 60% de cada bloque en la puntuación última del examen, se enuncian 8 preguntas del tipo “semiabiertas” (tal y como las caracteriza la Orden Ministerial) que se puntúan cada una con 0,5 puntos, de manera que dos corresponden al primer gran bloque y las seis restantes al segundo, de forma que al sumar su valoración con la de las preguntas “abiertas” se alcance el total de 10 puntos y las proporciones de participación asignadas a los distintos bloques.

En todo momento, para la valoración de estos ejercicios, se tendrá en cuenta la capacidad expositiva, la riqueza y adecuación del vocabulario geográfico, la secuencia discursiva en la exposición de las respuestas en las preguntas abiertas. Se valorará la capacidad de análisis, de relación y generalización de los hechos geográficos.

Las faltas de ortografía se tendrán en cuenta, restando 0,1 punto por falta grave como de mala utilización de “b” “v”, “g” “j” “LL” “y”, tiempos compuestos sin “h”, etc. En todo caso, no se restará nunca más de un punto por la suma de todas las faltas de ortografía señaladas, que deben de ser destacadas en la corrección y especificar, en la nota final del ejercicio, que han sido contabilizadas negativamente.

CORRESPONDENCIA CON EL PROGRAMA OFICIAL

Como ya se ha especificado en el apartado anterior, cada pregunta del ejercicio ofrece una participación en las áreas en que se agrupa la materia de Geografía.